

II этап
Межрегиональной олимпиады
школьников «Юниор»
по ОКРУЖАЮЩЕМУ МИРУ, 3 класс
2024- 2025 учебный год

Инструкция по выполнению работы

При выполнении заданий в Таблице ответов под номером выполняемого вами задания поставьте знак «X» в клеточку, которая соответствует букве выбранного вами ответа.

Инструкция по выполнению работы

При выполнении заданий в Таблице ответов под номером выполняемого вами задания поставьте знак «Х» в клеточку, которая соответствует букве выбранного вами ответа.

БЛАНК ОТВЕТОВ

Таблица ответов

[illegible]

1. Выберите объект, который относится к живой природе

А – снежная горка

Б – опавший лист

В – сосулька на дереве

Г – дерево в лесу

2. К какому веку относиться 1 января 2024 года:

А – XIX век нашей эры

Б – XX век нашей эры

В – XXI век нашей эры

Г – XXI век до нашей эры

3. Ихтиология – наука, изучающая:

А – многообразие и жизнь собак

Б – многообразие и жизнь кошек

В – многообразие и жизнь рыб

Г – многообразие и жизнь насекомых

4. Продолжи примету о погоде. Зима
снежная - лето

А – холодное

Б – жаркое

В – дождливое

Г – засушливое

5. Изучите график и определите по графику в какой день недели 19°C

А - понедельник

Б - вторник

В - среда

Г - четверг



6. Наберем в тарелку немного воды, отмерим маркером ее уровень на стенке тарелки и оставим на подоконнике на несколько дней. Заглядывая каждый день в тарелку, какой результат мы будем наблюдать?

А – количество воды не измениться

Б – воды станет меньше

В – воды станет больше

Г – вода станет светлее

7. Выберите организм который **не** относится к царству грибы

А – трутовик окаймленный

Б – мукор

В – лисица обыкновенная

Г – лисичка обыкновенная

8. Назови культурное растение,
которое используют для корма
сельскохозяйственных животных:

А – алтей, валериана

Б – клематис, петунья

В – морковь, яблоки

Г – кукуруза, клевер

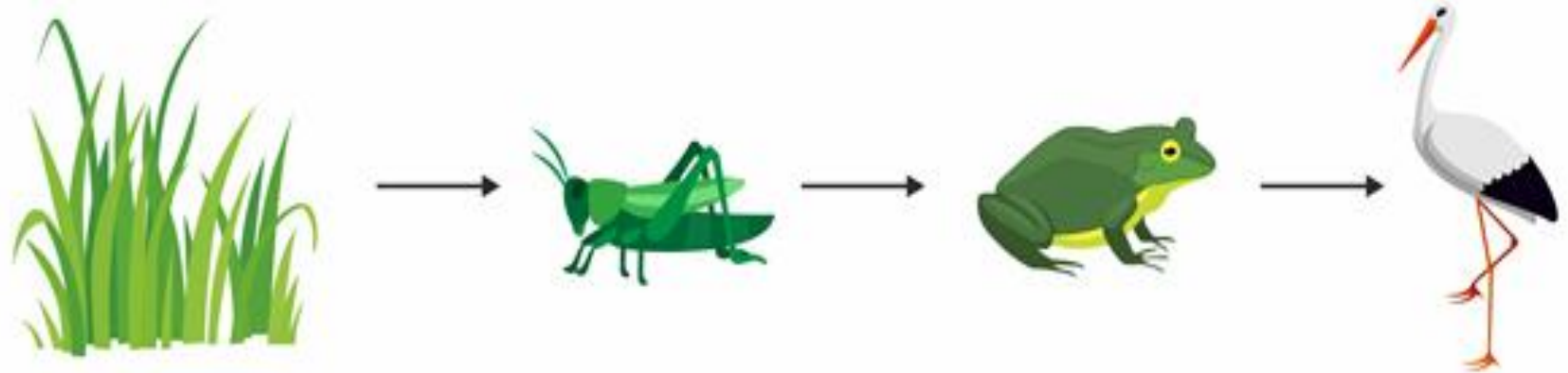
9. Рассмотрев рисунок, назови организм, который производит органические вещества для всех организмов в пищевой цепи болота

А – трава

Б – кузнечик

В – лягушка

Г – аист



10. На рисунке занятие людей которое называется бортничество, чем занят работник:

А – сбор меда и воска

Б – лечит дерево

В – изучает дерево для науки

Г – делает дупло в дереве



Ответы на 2 часть, задания по 10 баллов.
Запишите **развернутый ответ** на вопрос.
6 вопросов с 11 по 16

Выполните задание по инструкции.

11. Распредели продукты питания на 2 группы: растительного или животного происхождения, в ответ запиши номера в порядке возрастания, для каждой группы отдельно

1. кефир

2. пастила

3. сыр

4. геркулес

5. варенье

6. макароны

7. творог

8. молоко

9. сливочное масло

10. рапсовое масло

А. Растительные продукты питания	Б. Животные продукты питания
245610	13789

Перенесите ответ в бланк ответов

12. Установи порядок, в ответе
запиши последовательность букв.
Правильно распредели растения по
ярусам леса, начиная от самого
верхнего (первого) к нижнему.

А – рябина
Б – низкотравье
В – малина
Г – папоротники
Д – березы

Ответ

Д	А	В	Г	Б
---	---	---	---	---

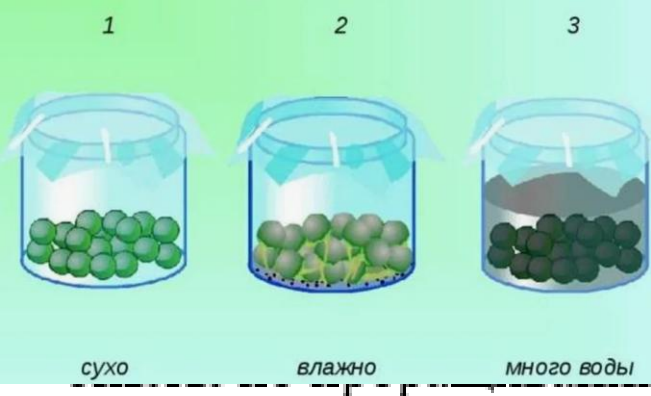
Перенесите ответ в бланк ответов

13. Сопоставь растения и группу, к которой относится

Растения	Группа
А – капуста пекинская Б – борщевик Сосновского В – бодяг огородный Г – одуванчик лекарственный Д – редька черная	1. Дикорастущие 2. Культурные <i>Перенесите ответ в бланк ответов</i>

Ответ

А	Б	В	Г	Д
2	1	1	1	2

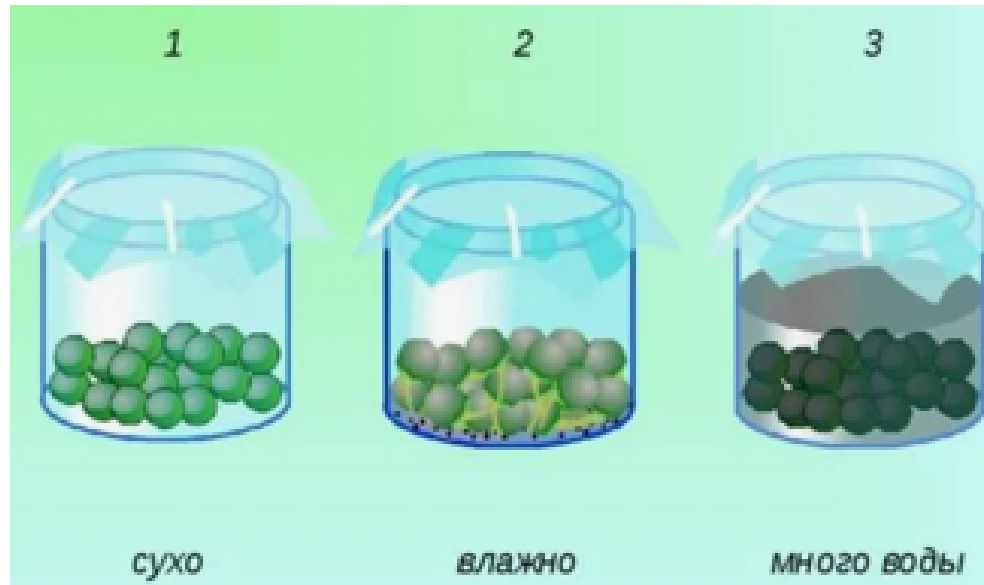


г, выберите правильные ответы на пропуски в тексте
В.

ВОДИЛИ

О СЕМЯН

гороха. Взяли три стакана, в
каждый стакан ребята поместили
одинаковое количество семян
гороха. В первый стакан поместить
сухие семена гороха, во втором –
семена чуть залить **водой** так,
чтобы им был доступ воздуха,
в третьем – семена полностью залить водой, наполнив стакан до половины,
так, чтобы слой воды не пропускал **воздух** к семенам. Затем поставили оба
стакана на подоконник и стали наблюдать за появляющимися **ростками**. Из
опыта можно сделать вывод, что **семена** прорастают в присутствии воды при
доступе воздуха для первоначального роста **зародыша**





А – воздух
Б – зародыш
В – ростки
Г – семена
Д – вода

1	2	3	4	5
Д	А	В	Г	Б

*Перенесите ответ
в бланк ответов*

15. Опишите погоду по условным обозначениям, предположите какое время года в Тюмени.

			-20°C	30%
---	--	---	-------	-----

Ответ

Зима. День сегодня **ясный и морозный**. Светит Солнце, к вечеру подул слабый **восточный ветер**. На улице **20 градусов мороза**, а **влажность опустилась до 30 процентов**.

16. Назовите не менее пяти правил безопасного поведения в интернете

Перенесите ответ в бланк ответов

1 Сильные и уникальные пароли

2 Осторожность с личной информацией

3 Обновление программного обеспечения: Регулярно обновляйте операционную систему и антивирусное программное обеспечение

4 Осторожность со ссылками и вложениями: Не открывайте подозрительные ссылки и вложения в письмах, особенно если отправитель вам неизвестен

5 Использование двухфакторной аутентификации: Где это возможно, включите двухфакторную аутентификацию. Это добавляет дополнительный уровень безопасности к вашим аккаунтам, требуя подтверждения входа с другого устройства или через СМС-код.

- **Будьте осторожны с загрузками.**
- **Будьте осторожны с публикациями.**
- **Будьте осторожны с онлайн-знакомствами.**
- **Перепроверяйте информацию, найденную в интернете.**
- **Используйте хороший антивирус и регулярно обновляйте его.**

Благодарю за сотрудничество!!!

Участвуй в Юниоре –
Становись - умнее!

